

Важная лемма

Теорема о средней линии известна школьникам, начиная с 8-го класса, а вот утверждение, о котором речь пойдет ниже, зачастую ускользает от них.

Важная лемма. Пусть O – центр описанной окружности треугольника ABC , H – его ортоцентр, P – середина стороны AC (рис. 1). Тогда

$$BH = 2 \cdot OP.$$

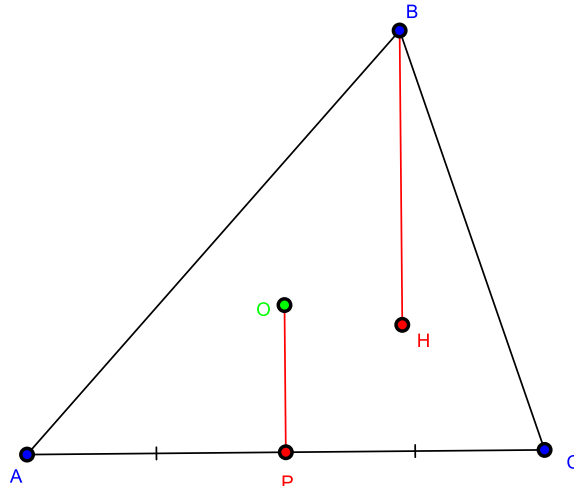


рис. 1

Доказательство. Первый способ.

Дополним рис.1, а именно отметим точки K, L, M – середины отрезков AB, BH, CH соответственно (рис. 2).

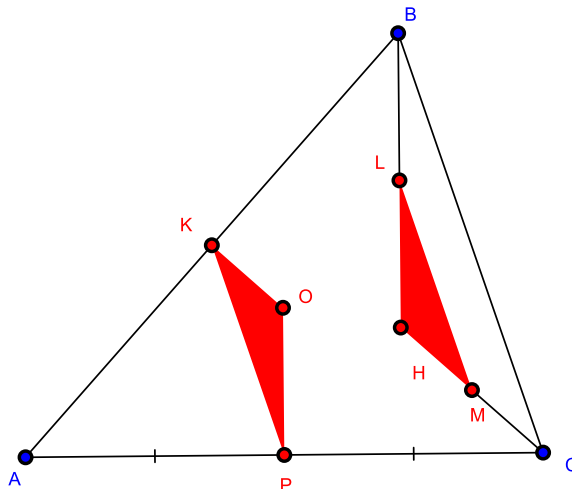


рис. 2

Заметим, что $OK \perp AB$, так как O – точка пересечения серединных перпендикуляров (центр описанной окружности), но и $CH \perp AB$, поэтому $CH \parallel OK$. Аналогично убеждаемся, что $OP \parallel BH$. Далее, KP – средняя линия треугольника ABC , поэтому $KP \parallel BC$ и $KP = \frac{1}{2}BC$. А LM – средняя линия треугольника BHC , следовательно, $LM \parallel BC$ и $LM = \frac{1}{2}BC$. Получаем, что у треугольников KOP и LMH стороны попарно параллельны, следовательно, их углы попарно равны (почему?). Но $KP = \frac{1}{2}BC = LM$, т. е. $\triangle KOP = \triangle LMH$. Поэтому $OP = LH = \frac{1}{2}BH$. \square

Доказательство. Второй способ.

Пусть прямая CO пересекает описанную окружность в точке Q (рис. 3).

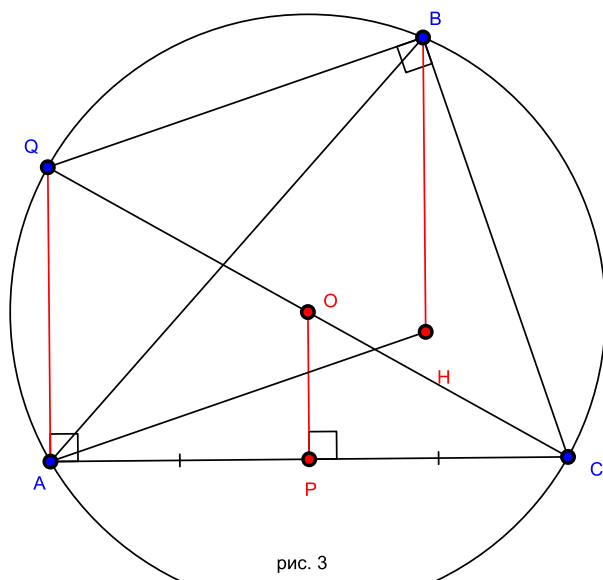


рис. 3

Заметим, что $\angle QAP = 90^\circ$, т.к. QC – диаметр. Но в $OP \perp AC$, поэтому $QA \parallel OP$. Получаем, что в треугольнике CQA OP является средней линией, следовательно, $OP = \frac{1}{2}AQ$. Отметим, что $\angle QBC = 90^\circ$ (почему?) и $AH \perp BC$, поэтому $QB \parallel AH$. С другой стороны, $BH \perp AC$ и $AQ \perp AC$, т.е. $AQ \parallel BH$. Откуда заключаем, что $AQBH$ – параллелограмм, т.е. $AQ = BH$. Итак, получаем такую цепочку равенств $OP = \frac{1}{2}AQ = \frac{1}{2}BH$, чем и завершается доказательство. \square

Оказывается, что данная конструкция буквально усапана параллелограммами и средними линиями. В обозначениях рис. 2 докажите такие утверждения.

Упражнение 1. Докажите, что отрезок PL равен радиусу описанной окружности треугольника ABC .

Упражнение 2. Точка симметричная точке O относительно середины медианы BP лежит на высоте треугольника ABC .

Упражнение 3. Пусть биссектриса угла B пересекает отрезок PL в точке N . Тогда

- а) $NL = BL$;
- б) $\angle HNB = 90^\circ$.

Упражнение 4. Прямая PL перпендикулярна касательной, проведённой к описанной окружности треугольника ABC в точке B .

Более того, важная лемма позволяет довольно просто доказать такую известную теорему.

Теорема 1. Ортоцентр H , центр описанной окружности O и точка пересечения медиан G лежат на одной прямой (**прямой Эйлера**).

Доказательство. Пусть прямая OH пересекает отрезок BP в точке M (рис.4).

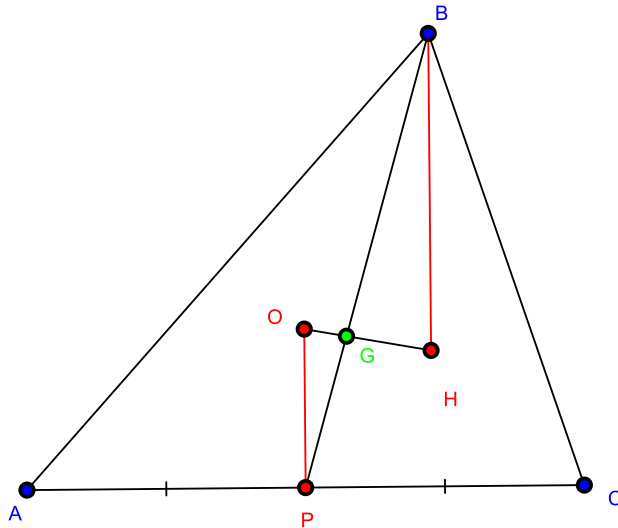


рис. 4

Заметим, что треугольники OPG и HBG подобны по двум углам. Следовательно, $\frac{BG}{GP} = \frac{BH}{OP}$. Но по важной лемме, получаем, что $\frac{BH}{OP} = 2 \Rightarrow \frac{BG}{GP} = 2$. Таким образом, получаем, что точка G лежит на медиане BP и делит её в отношении 2:1, считая от вершины, поэтому точка G является точкой пересечения медиан треугольника ABC , т.е. $G \equiv M$. \square

Прямая Эйлера тесно связана с другой жемчужиной элементарной геометрии.

Теорема 2. *Средины сторон, основания высот и середины отрезков, соединяющих вершины с ортоцентром, лежат на одной окружности.*

Эту окружность называют **окружностью девяти точек** либо **окружностью Эйлера**.

На первый взгляд, кажется, что такое утверждение должно доказываться очень трудно, но оказывается, что это не совсем так. Пусть A_0, A_1, A_2 – середины отрезков AH, BC и основания высоты из вершины A . Аналогично определим точки B_0, B_1, B_2 и C_0, C_1, C_2 (рис. 5).

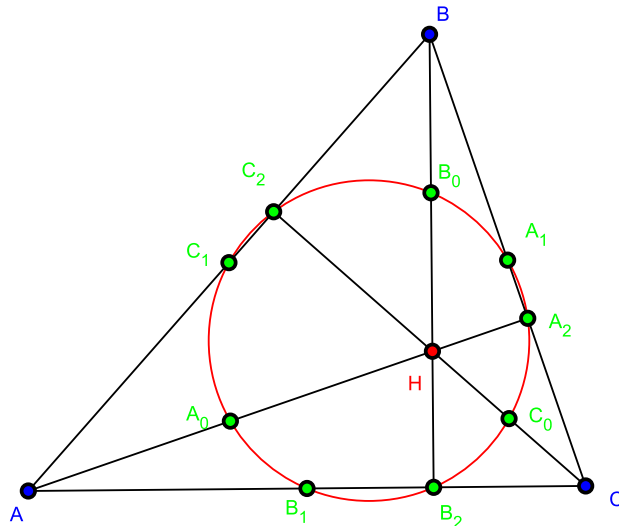


рис. 5

Покажем, что все указанные девять точек лежат на окружности с диаметром B_0B_1 . Заметим, что $\angle B_0B_2B_1 = 90^\circ$, поэтому точка B_2 лежит на этой окружности.

В треугольнике AHC отрезок A_0B_1 является средней линией, поэтому $A_0B_1 \parallel CH$ (рис. 6).

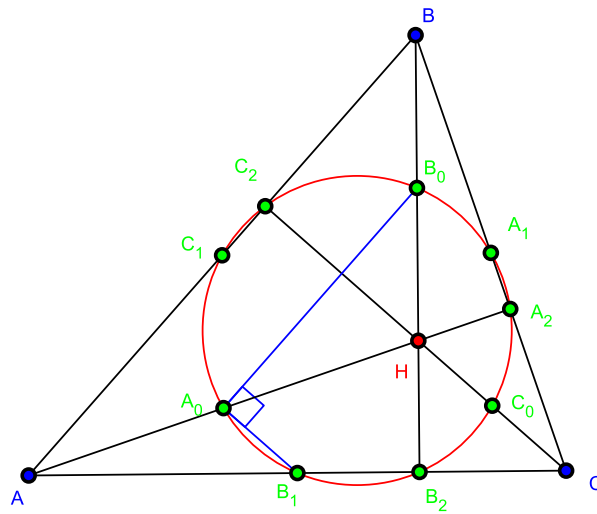


рис. 6

В треугольнике AHB A_0B_0 средняя линия, поэтому $A_0B_0 \parallel AB$. С другой стороны, $CH \perp AB$, следовательно, и параллельные им прямые будут взаимно перпендикулярны, т.е. $\angle B_1A_0B_0 = 90^\circ \Rightarrow$ точка A_0 также лежит на окружности с диаметром B_0B_1 .

Похожим образом доказывается, что $\angle B_1C_1B_0 = 90^\circ$ (рис. 7).

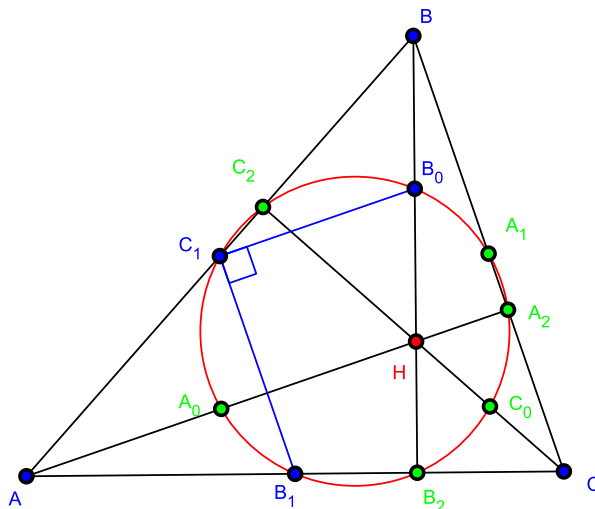


рис. 7

Действительно, C_1B_1 – средняя линия для треугольника ABC , поэтому $C_1B_1 \parallel CB$, а C_1B_0 – средняя линия для треугольника AHB , откуда заключаем, что $C_1B_0 \parallel AH$. Но $AH \perp BC$, следовательно, и $C_1B_1 \perp C_1B_0$, т.е. $\angle B_1C_1B_0 = 90^\circ \Rightarrow$ точка C_1 лежит на окружности с диаметром B_0B_1 .

Теперь докажем, что и $\angle B_1C_2B_0 = 90^\circ$ (рис. 8).

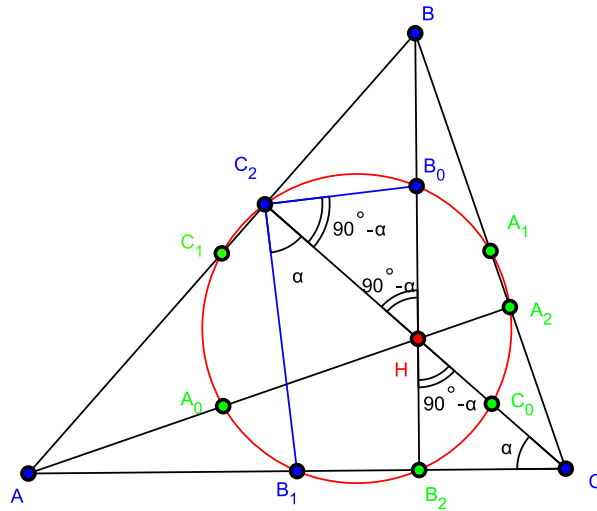


рис. 8

Заметим, что C_2B_1 медиана прямоугольного треугольника AC_2C , проведённая к гипотенузе, поэтому $\angle B_1C_2C = \angle C_2CB_1$. Обозначим эти углы через α . Тогда из прямоугольного треугольника CB_2H найдем, что $\angle B_2HC = 90^\circ - \alpha$, но $\angle C_2HB_0 = \angle B_2HC$ как вертикальные, т.е. $\angle C_2HB_0 = 90^\circ - \alpha$. С другой стороны, C_2B_0 – медиана прямоугольного треугольника HC_2B , проведённая к гипотенузе BH , поэтому $\angle B_0C_2H = \angle C_2HB_0 = 90^\circ - \alpha$. Следовательно, $\angle B_1C_2B_0 = 90^\circ$.

Для оставшихся трёх точек C_0, A_1, A_2 можно провести аналогичные рассуждения.

Таким образом, мы показали, что все девять точек лежат на окружности с диаметром B_1B_0 , т. е. *центром окружности девяти точек является середина отрезка B_0B_1* .

Пусть прямая OH пересекает отрезок B_1B_0 в точке O_9 (рис. 9).

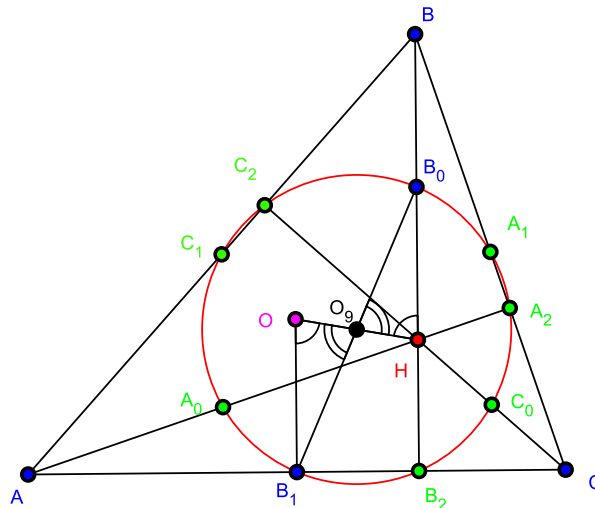
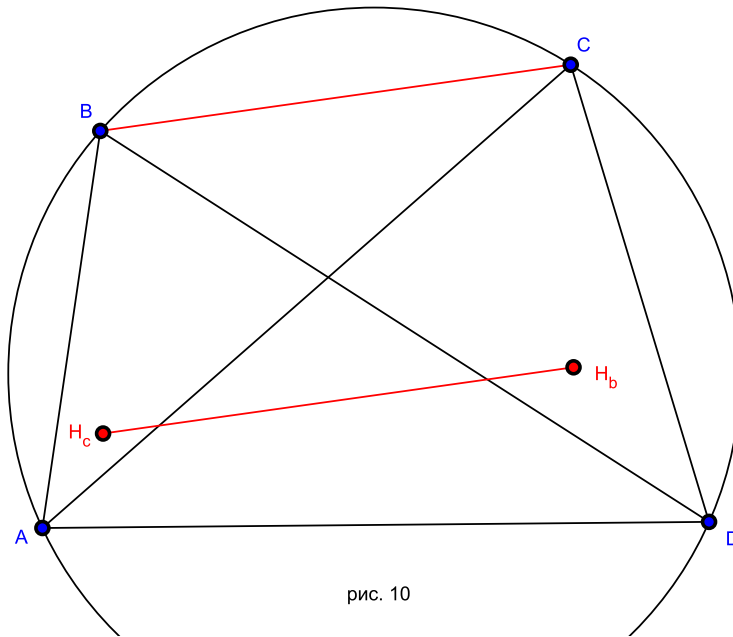


рис. 9

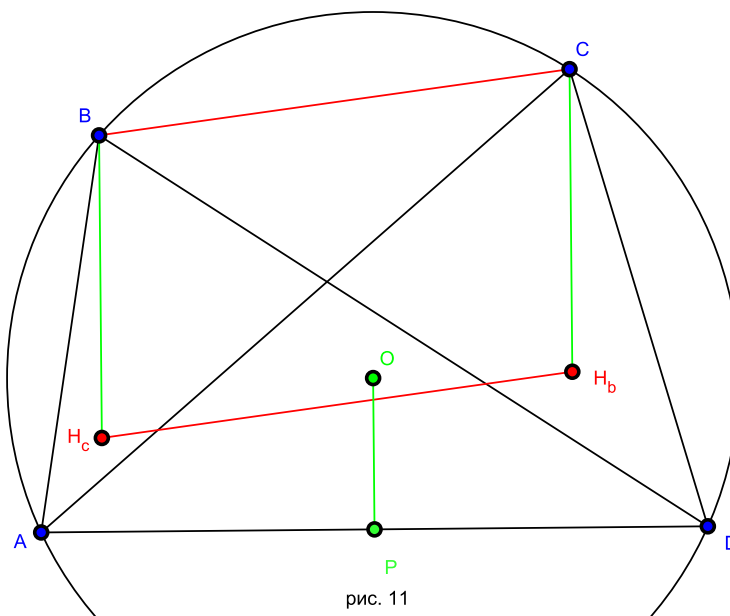
Заметим, что согласно важной лемме $OB_1 = HB_0$. С другой стороны, $\angle OO_9B_1 = \angle B_0O_9H$ (вертикальные) и $\angle O_9OB_1 = \angle O_9HB_0$ (накрест лежащие углы). Следовательно, $\triangle OO_9B_1 = \triangle HO_9B_0 \Rightarrow B_0O_9 = B_1O_9$. Другими словами, мы доказали, что *центр окружности девяти точек лежит на прямой Эйлера и является серединой отрезка, соединяющего ортоцентр и центр описанной окружности!*

Теперь посмотрим на другие любопытные следствия из важной леммы.

Задача 1. Дан вписанный четырёхугольник $ABCD$. H_c – ортоцентр треугольника ABD , H_b – ортоцентр треугольника ACD . Докажите, что $BC = H_bH_c$ (рис. 10).



На первый взгляд, кажется, что задача не имеет отношения к важной лемме, но стоит отметить центр окружности (точка O) и середину стороны AD (точка P), как сразу же всё становится почти очевидным (рис. 11).



В самом деле, по важной лемме для треугольника ABD заключаем, что $BH_c = 2 \cdot OP$. А из треугольника ACD опять же по важной лемме найдём, что $CH_b = 2 \cdot OP$. Следовательно, $BH_c = CH_b$, но ведь $BH_c \perp AD$ и $CH_b \perp AD$, т.е. четырёхугольник $BC H_b H_c$ – параллелограмм, откуда и следует нужное нам утверждение. \square

Теперь определим ещё и точки H_a, H_d . Тогда оказывается, что **прямые AH_a, BH_b, CH_c, DH_d пересекаются в одной точке (рис. 12)!**

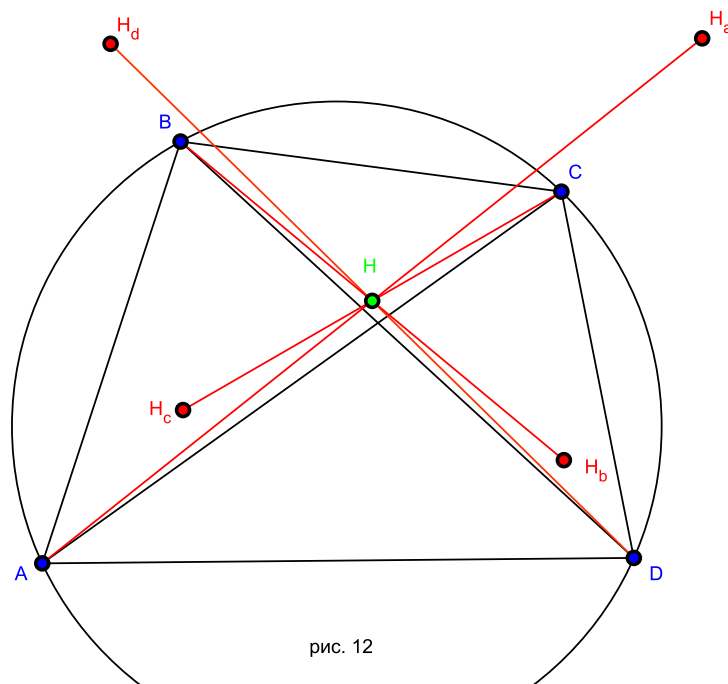


рис. 12

Эта теорема доказывается на удивление просто. В решении задачи 1 мы доказали, что BCH_bH_c – параллелограмм, поэтому отрезки BH_b и CH_c точкой пересечения делятся пополам. Такими же рассуждениями убеждаемся, что любая пара из наших отрезков делится точкой пересечения пополам, поэтому все четыре отрезка имеют общую середину. \square

Точку H пересечения прямых будем называть *ортоцентром четырёхугольника*. Таким образом ортоцентр четырёхугольника $ABCD$ является серединой каждого из отрезков AH_a , BH_b , CH_c и DH_d .

Пусть L – середина стороны BC вписанного четырёхугольника $ABCD$ (рис. 13).

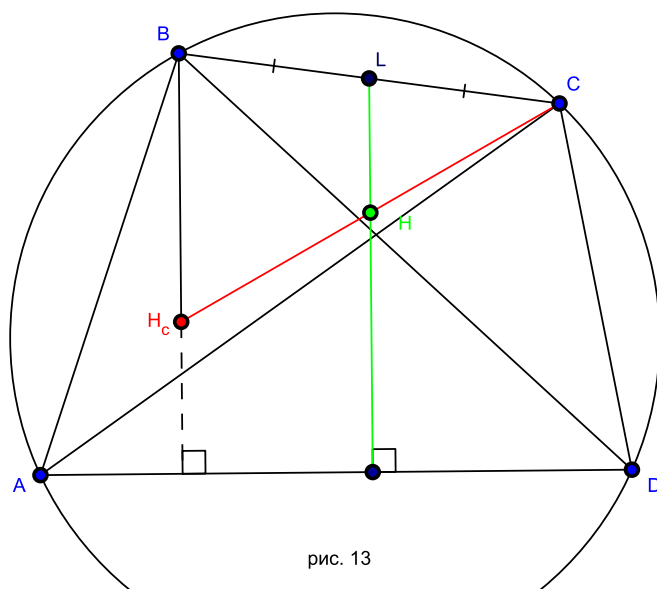


рис. 13

Проведём прямую LH (H – ортоцентр четырёхугольника). Как мы выяснили выше, H – середина отрезка CH_c , т.е. LH – средняя линия для треугольника $BCH_c \Rightarrow LH \parallel BH_c$, но $BH_c \perp AD$, поэтому $LH \perp AD$. Другими словами, перпендикуляр, опущенный из середины L стороны BC на противоположную сторону AD , проходит через ортоцентр H этого четырёхугольника. Разумеется, аналогичное утверждение верно и для середин других сторон. Получаем, что все такие прямые пересекаются в одной точке – ортоцентре четырёхугольника(рис. 14)!

Это утверждение называют *теоремой Монжа*.

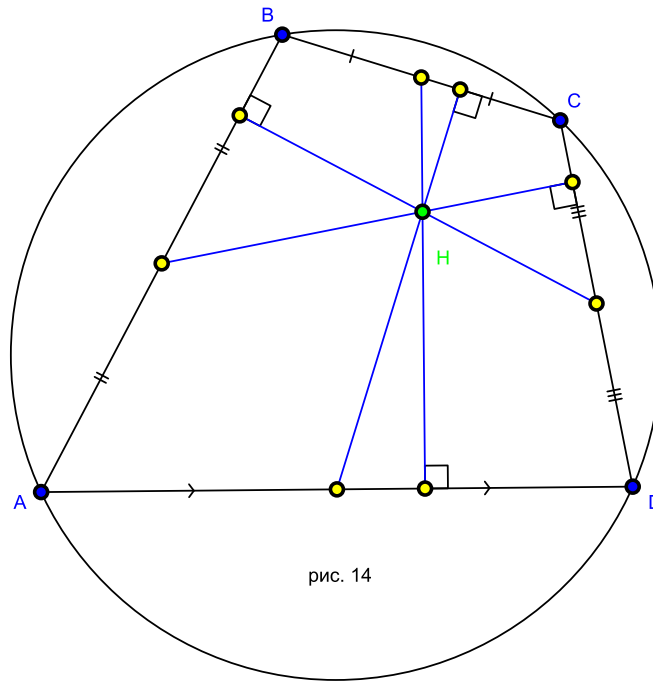


рис. 14

Медиану четырёхугольника определим как отрезок, соединяющий середины противоположных сторон. В треугольнике три медианы пересекаются в одной точке, а для четырёхугольника имеется такой аналог.

Задача 2. Пусть K, L, M, N, E, F середины отрезков AB, BC, CD, AD, AC и BD соответственно. Тогда отрезки KM, LN, EF пересекаются в одной точке (рис. 15).

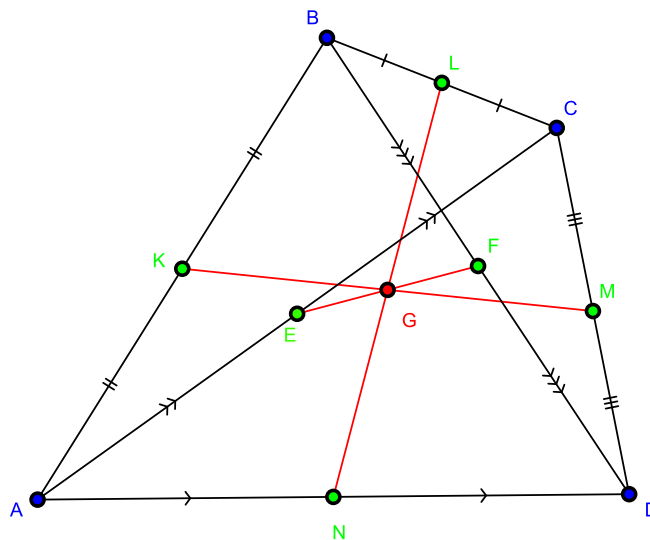
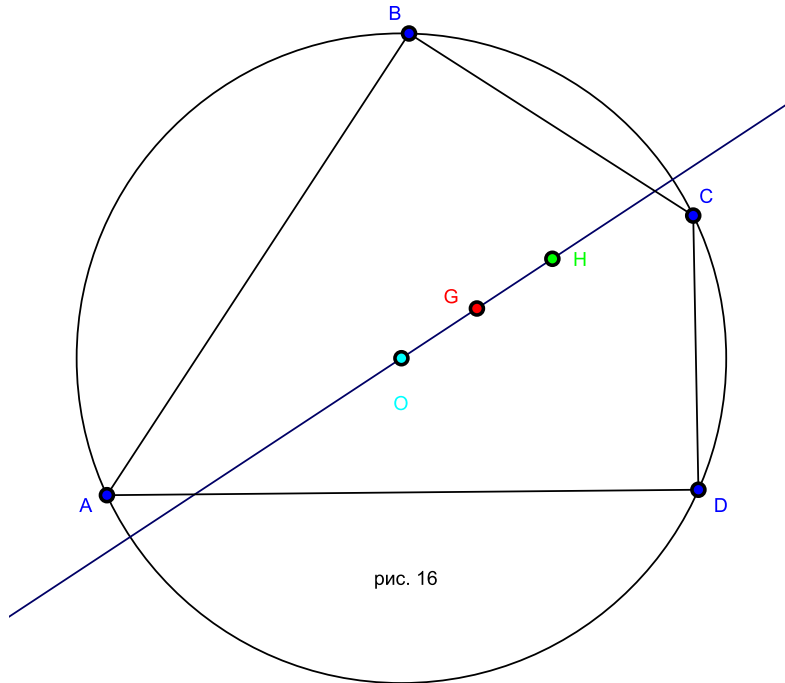


рис. 15

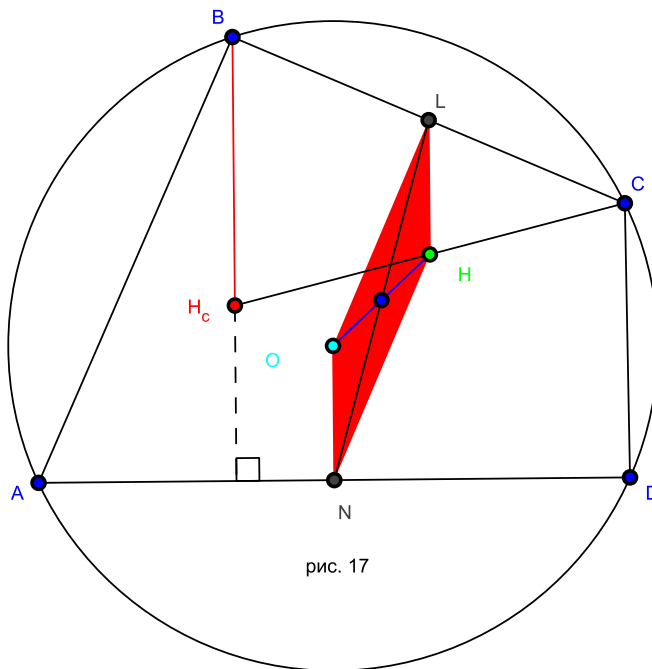
Доказательство опять-таки использует среднюю линию треугольника. Заметим, что KE – средняя линия для треугольника ABC , поэтому $KE = \frac{1}{2}BC$ и $KE \parallel BC$. Аналогично из треугольника BCD найдём, что $FM = \frac{1}{2}BC$ и $FM \parallel BC$. Таким образом, получаем, что четырёхугольник $KFME$ параллелограмм. Следовательно, отрезки KM и EF имеют общую середину. Аналогично можно показать, что середины отрезков EF и LN совпадают. Итак, мы показали, что три отрезка KM, LN, EF имеют общую середину G , т.е. они пересекаются и точкой пересечения делятся пополам. \square Точку G будем называть **центроидом** четырёхугольника.

Теперь всё готово для доказательства следующей замечательной теоремы.

Теорема 3 (прямая Эйлера вписанного четырёхугольника). *Центроид G , центр описанной окружности O и ортоцентр H вписанного четырёхугольника лежат на одной прямой (рис. 16).*



Доказательство очень сходно с доказательством теоремы Монжа. В самом деле, пусть N , L – середины сторон AD , BC соответственно, а H_c – ортоцентр треугольника ABD (рис. 17).



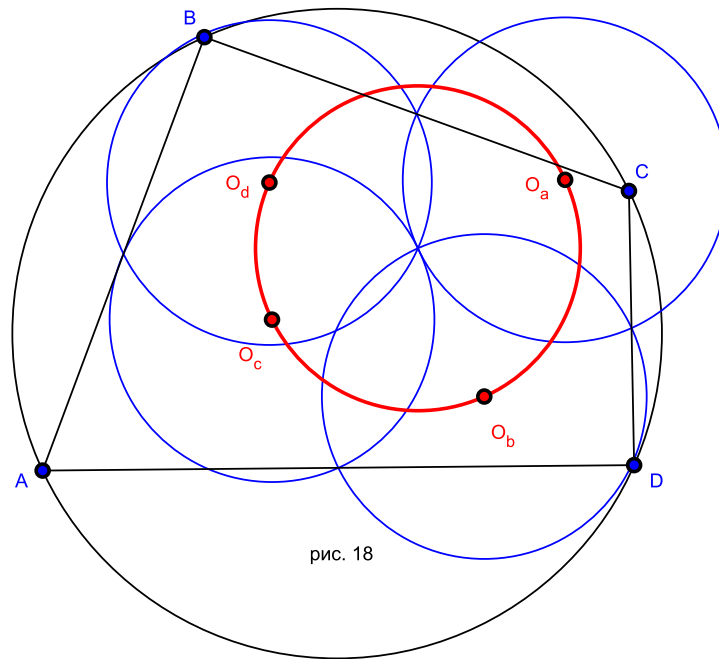
Как мы выяснили при доказательстве теоремы Монжа, $LH = \frac{1}{2}BH_c$ и $LH \parallel BH_c$. С другой стороны, по важной лемме для треугольника ABD получаем, что $BH_c = \frac{1}{2}ON$, но ведь $ON \parallel BH_c$. Следовательно, четырёхугольник $OLHN$ – параллелограмм,

поэтому прямая OH содержит середину NL . Но чуть выше мы выяснили, что центроид G четырёхугольника является серединой отрезка LN (рис. 16)! Откуда и следует, что точки O, G, H лежат на одной прямой. Более того, мы показали, что точка G – середина отрезка OH . \square

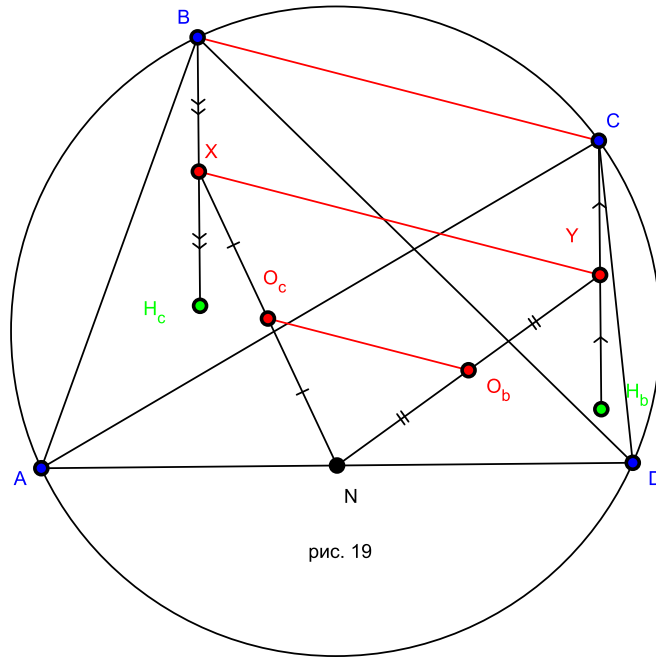
Мы обобщили прямую Эйлера, а можно ли как-то обобщить окружность девяти точек?

Оказывается, что для вписанного четырёхугольника $ABCD$ верен такой факт.

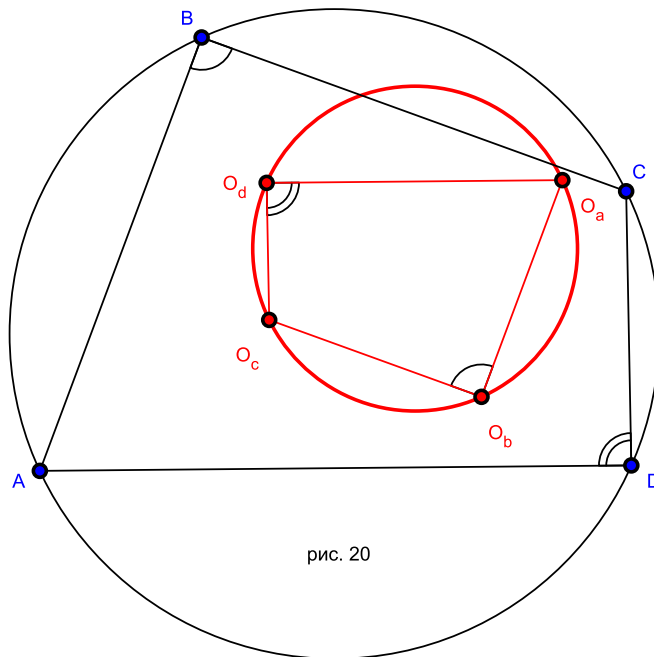
Теорема 4 (Окружность Эйлера вписанного четырёхугольника). *Центры O_d, O_a, O_b, O_c окружностей девяти точек треугольников ABC, BCD, CDA, DAB соответственно лежат на одной окружности(рис. 18).*



Пусть H_c, H_d – ортоцентры треугольников ABD, ACD соответственно, а X, Y – середины отрезков BH_c, CH_d соответственно. Как мы выяснили выше в доказательстве окружности девяти точек для треугольника, O_c, O_b – середины отрезка XN, YN соответственно, где N – середина стороны AD (рис. 19).



Мы знаем, что BCH_bH_c параллелограмм, тогда получаем, что XY – отрезок, соединяющий середины противоположных сторон параллелограмма, поэтому $XY \parallel BC$. С другой стороны, в треугольнике XNY отрезок O_bO_c является средней линией, поэтому $O_bO_c \parallel XY$. Следовательно, $O_bO_c \parallel BC$, аналогичными рассуждениями верны и для других пар сторон четырёхугольников $ABCD$ и $O_aO_bO_cO_d$, т.е. получаем, что у этих четырёхугольников стороны попарно параллельны, следовательно, и углы между соответствующими сторонами равны. Но раз в четырёхугольнике $ABCD$ $\angle B + \angle D = 180^\circ$, тогда и $\angle O_b + \angle O_d = 180^\circ$ (рис. 20).



Откуда и следует вписанность четырёхугольника $O_aO_bO_cO_d$. □

Оказывается, что эти четыре окружности девяти точек пересекаются в одной точке (рис. 18)! Согласно упражнению 1 получаем, что $XN = R = YN$, где R – радиус окружности описанной вокруг четырёхугольника $ABCD$, т.е. треугольник XNY – равнобедренный (рис. 21).

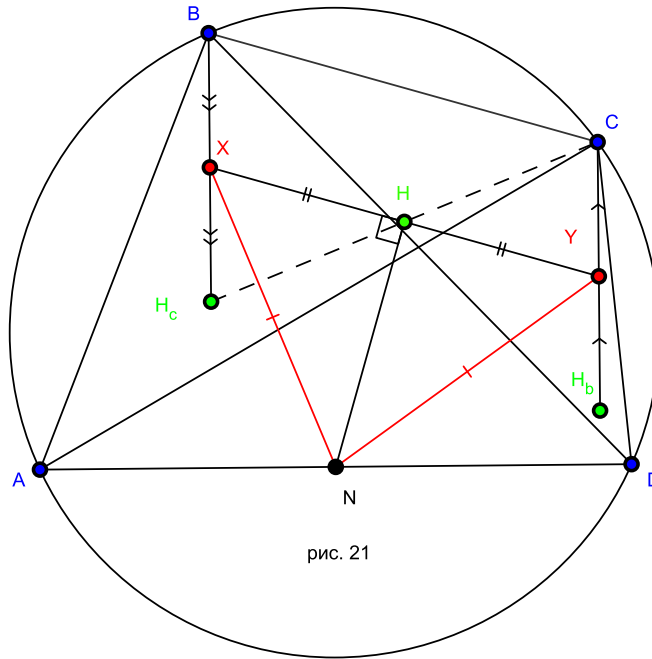


рис. 21

С другой стороны, как мы выяснили выше, ортоцентр H четырёхугольника $ABCD$ является центром (точкой пересечения диагоналей) параллелограмма BCH_bH_c . Нетрудно видеть, что отрезок XY проходит через точку пересечения диагоналей параллелограмма BCH_bH_c , т.е. через точку H , при этом $XH = HY$. Таким образом, NH является медианой в равнобедренном треугольнике XNY , поэтому $\angle XHN = 90^\circ$. Следовательно, точка H лежит на окружности с диаметром XN , т.е. на окружности девяти точек треугольника ABD . Аналогично можно показать, что точка H лежит и на трёх оставшихся окружностях девяти точек. Итак, мы доказали, что окружности девяти точек пересекаются в ортоцентре четырёхугольника! \square

Но оказывается, что окружности девяти точек треугольников ABC , BCD , CDA , DAB пересекаются в одной точке для любого четырёхугольника $ABCD$, а не только для вписанного!

Теорема 5. *Окружности девяти точек треугольников ABC , BCD , CDA , DAB пересекаются в одной точке.*¹

¹В 2003 году это утверждение предлагалось доказать участникам математической олимпиады города Санкт-Петербург.

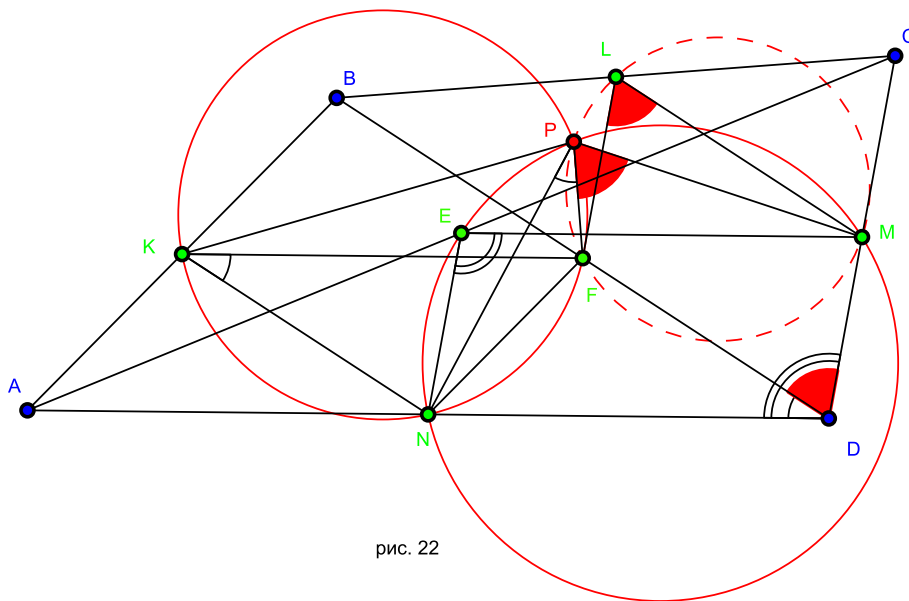


рис. 22

Пусть K, L, M, N, E, F – середины отрезков AB, BC, CD, DA, AC и BD соответственно(рис. 22). Тогда окружность девяти точек для треугольника ABD – это просто окружность, проходящая через точки K, N, F (середины сторон этого треугольника), аналогично окружность девяти точек для треугольника ACD – окружность, описанная вокруг треугольника NEM . Пусть эти две окружности пересекаются в точке P . Заметим, что четырёхугольник $KFDN$ – параллелограмм(почему?), поэтому $\angle NKF = \angle NDF$. С другой стороны, $\angle NKF = \angle NPF$, т.к. опираются на одну дугу NF . Получаем, что $\angle NDF = \angle NPF$. Такими же рассуждениями приходим к равенству $\angle NDM = \angle NPM$. Остаётся заметить, что четырёхугольник $LMDF$ также является параллелограммом (почему?), поэтому $\angle FLM = \angle FDM$. Из полученных равенств приходим к такой цепочке:

$$\angle FPM = \angle NPM - \angle NPF = \angle NDM - \angle NKF = \angle NDM - \angle NDF = \angle FDM = \angle FLM.$$

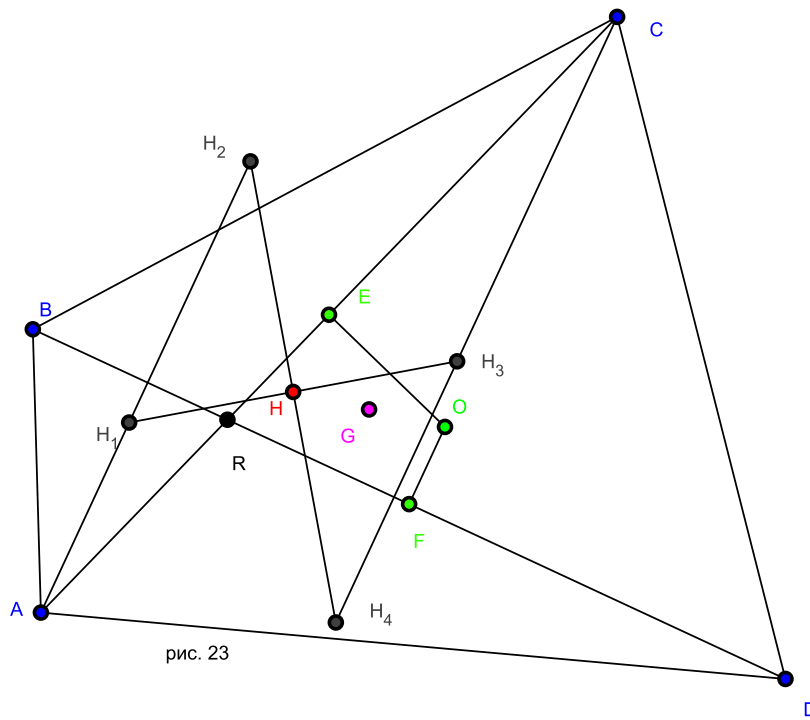
Но равенство $\angle FPM = \angle FLM$ означает, что точки F, P, L, M лежат на одной окружности, т.е. точка P лежит на окружности девяти точек треугольника BCD . Аналогично доказывается, что точка P лежит и на окружности девяти точек треугольника ABC . Таким образом наше утверждение доказано. \square Полученную точку P называют **точкой Понселе** четырёхугольника $ABCD$.

После этого возникает вопрос: а можно ли обобщить прямую Эйлера на случай невписанного четырёхугольника? При определении ортоцентра четырёхугольника мы использовали важную лемму, т.е. то что четырёхугольник вписан, да и какой аналог центру описанной окружности можно придумать для произвольного четырёхугольника? Но оказывается, что есть такое утверждение.

Теорема 6 (А. Г. Мякишев). Пусть R – точка пересечения диагоналей четырёхугольника $ABCD$, G – центр тяжести четырёхугольника, O – точка пересечения диагоналей, H – точка пересечения прямых, соединяющих ортоцентры треугольников ARD и BRC , ARB и CRD . Тогда G – середина OH .²

Как мы отмечали выше, центр тяжести G четырёхугольника совпадает с серединой отрезка FE , E и F – середины диагоналей AC и BD соответственно(рис. 23).

²Эта задача предлагалась в 2005 году участникам финального тура геометрической олимпиады им. И. Ф. Шарыгина.



Далее, четырёхугольник $H_1H_2H_3H_4$ является параллелограммом, т.к. его противоположные стороны попарно параллельны. Поэтому точка H совпадает с серединой отрезка H_2H_4 . Теперь заметим, что отрезки H_2H_4 и AC заключены между параллельными прямыми AH_2 и CH_4 , следовательно, прямая HE , проходящая через середины этих отрезков, параллельна прямым AH_2 и CH_4 (это следует из теоремы о средней линии). Таким образом, получаем, что $HE \parallel CH_4$, но $CH_4 \parallel OF$ (почему?), следовательно, $HE \parallel OF$. Аналогично убеждаемся, что и $HF \parallel EO$. Итак, получаем, что четырёхугольник $HEOF$ – параллелограмм, а раз точка G – середина одной его диагонали EF , то она является серединой и другой его диагонали HO , что и завершает доказательство. \square

Задачи

Задача 3 (Кубок Колмогорова. 2005 год.). Высоты остроугольного неравобедренного треугольника ABC пересекаются в точке H . Точки M и N – середины отрезков BC и AH соответственно. Докажите, что расстояние между точками пересечения прямой MN с биссектрисами внешнего и внутреннего углов при вершине A равно AH .