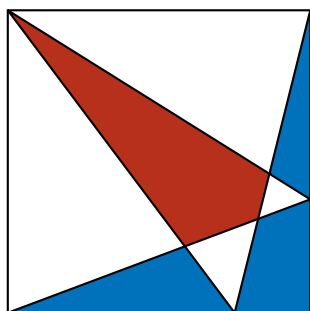



Площадь. Дополнительные задачи

7. Для каждого из чертежей выясните, какая площадь больше — «красная» или «синяя».

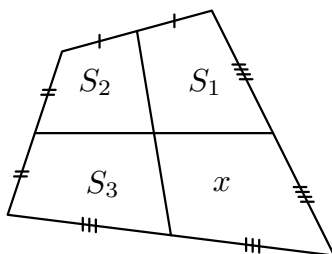


а)



б)

8. Вычислите неизвестную площадь x по чертежу.



9. Внутри правильного шестиугольника взята произвольная точка и соединена с вершинами. Докажите, что «синяя» площадь на рисунке равна «красной».

